









Die Reise eines Regentropfens



Arbeite mit den nummerierten Kluppen von 1-8

1		Der Fluss wird immer breiter und mündet im großen Meer.
2		Der Regentropfen wandert wieder zum Himmel hinauf.
3		Ein Regentropfen wohnt in einer Wolke.
4		Die Sonne scheint heiß.
5		Die Wolke wandert über Berge und Täler.
6		Der Bach mündet in einen Fluss.
7		Sie wird immer dicker und lässt viele Tropfen fallen.
8		Der Regentropfen fällt in einen Bach.

Lösung auf der Rückseite

6



8



1



7



2



5



3



4

