

# WIE SPÄT IST ES?

Schreib auf, wie spät es auf den 10 rosa Uhren ist!

Lies die Sätze genau, sie helfen dir bei dieser Aufgabe! ➡



Es ist zwei Uhr.



Es ist zehn Minuten vor zwei Uhr.



Es ist zehn Minuten nach zwei Uhr.



Es ist vier Uhr.



Es ist zehn Minuten nach vier Uhr.



1.



6.



2.



7.



3.



8.



4.




9.



5.



10.

So: 1.  Es ist sechs Uhr.

2.  Es ist zehn M.....



1999/2000 ✨ Martina Müller

# WIE SPÄT IST ES?

Schreib auf, wie spät es auf den 10 rosa Uhren ist!

Lies die Sätze genau, sie helfen dir bei dieser Aufgabe! ➡



Es ist drei Uhr.



Es ist zehn Minuten vor drei Uhr.



Es ist zehn Minuten nach drei Uhr.



Es ist sechs Uhr.



Es ist zehn Minuten vor sieben Uhr.



1.



6.



2.



7.



3.



8.



4.



9.



5.



10.

So: 1.  Es ist vier Uhr.

2.  Es ist zehn M.....



1999/2000 ✨ Martina Müller

# WIE SPÄT IST ES?

Schreib auf, wie spät es auf den 10 rosa Uhren ist!

Lies die Sätze genau, sie helfen dir bei dieser Aufgabe! ➡



Es ist ein Uhr.



Es ist zwei Uhr.



Es ist drei Uhr.



Es ist fünf Minuten vor drei Uhr.



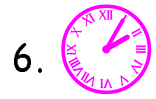
Es ist fünf Minuten nach drei Uhr.

So: 1.  Es ist vier Uhr.

2.  Es ist fünf M.....



1.



6.



2.



7.



3.



8.



4.



9.



5.



10.



1999/2000 ✨ Martina Müller

# WIE SPÄT IST ES?

Schreib auf, wie spät es auf den 10 rosa Uhren ist!

Lies die Sätze genau, sie helfen dir bei dieser Aufgabe! ➡



Es ist fünf Uhr.



Es ist sechs Uhr.



Es ist fünf Minuten vor sechs Uhr.



Es ist fünf Minuten nach sechs Uhr.



Es ist fünf Minuten nach acht Uhr.

So: 1.  Es ist zwei Uhr.

2.  Es ist fünf M.....



1.



6.



2.



7.



3.



8.



4.



9.



5.




10.



1999/2000 ✨ Martina Müller

# WIE SPÄT IST ES?



Schreib auf, wie spät es auf den 10 rosa Uhren ist!

Lies die Sätze genau, sie helfen dir bei dieser Aufgabe! ➡



Es ist halb sechs.



Es ist zehn Minuten vor halb sechs.



Es ist zehn Minuten nach halb sechs.



Es ist halb zehn.



Es ist zehn Minuten nach halb zehn.



1.



6.



2.



7.



3.



8.



4.



9.



5.



10.

So: 1.  Es ist halb vier.

2.  Es ist h.....



1999/2000 \* Martina Müller

# WIE SPÄT IST ES?



Schreib auf, wie spät es auf den 10 rosa Uhren ist!

Lies die Sätze genau, sie helfen dir bei dieser Aufgabe! ➡



Es ist halb drei.



Es ist zehn Minuten vor halb drei.



Es ist zehn Minuten nach halb drei.



Es ist halb sieben.




Es ist zehn Minuten nach halb sieben.



1.



6.



2.



7.



3.



8.



4.




9.



5.



10.

So: 1.  Es ist halb zehn.

2.  Es ist zehn M.....



1999/2000 \* Martina Müller

# WIE SPÄT IST ES?

Schreib auf, wie spät es auf den 10 rosa Uhren ist!

Lies die Sätze genau, sie helfen dir bei dieser Aufgabe! ➡



Es ist halb drei.



Es ist fünf Minuten vor halb drei.



Es ist fünf Minuten nach halb zwei.



Es ist halb vier.



Es ist fünf Minuten vor halb vier Uhr.



1.



6.



2.



7.



3.



8.



4.



9.




5.



10.

So: 1.  Es ist halb sieben.

2.  Es ist fünf M.....



1999/2000 ✨ Martina Müller

# WIE SPÄT IST ES?

Schreib auf, wie spät es auf den 10 rosa Uhren ist!

Lies die Sätze genau, sie helfen dir bei dieser Aufgabe! ➡



Es ist halb sechs.



Es ist fünf Minuten vor halb sechs.



Es ist fünf Minuten nach halb sechs.



Es ist halb vier.



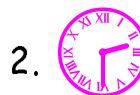
Es ist fünf Minuten vor halb vier.



1.



6.



2.



7.



3.



8.



4.




9.



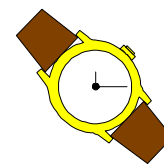
5.



10.

So: 1.  Es ist halb zehn.

2.  Es ist h.....



1999/2000 ✨ Martina Müller

# WIE SPÄT IST ES?

Schreib auf, wie spät es auf den 10 rosa Uhren ist!

Lies die Sätze genau, sie helfen dir bei dieser Aufgabe! ➡



Es ist viertel drei.



Es ist drei viertel drei.



Es ist fünf Minuten vor viertel drei.



Es ist fünf Minuten nach viertel drei.



Es ist fünf Minuten vor drei viertel drei.



1.



6.



2.



7.



3.



8.



4.



9.




5.



10.

So: 1.  Es ist viertel sechs.

2.  Es ist fünf Minuten v...



1999/2000 ✨ Martina Müller

# WIE SPÄT IST ES?

Schreib auf, wie spät es auf den 10 rosa Uhren ist!

Lies die Sätze genau, sie helfen dir bei dieser Aufgabe! ➡



Es ist viertel elf.



Es ist fünf Minuten nach viertel elf.



Es ist drei viertel sieben.



Es ist fünf Minuten vor drei viertel sieben.



Es ist fünf Minuten nach drei viertel drei.



1.



6.



2.



7.



3.



8.



4.




9.



5.



10.

So: 1.  Es ist viertel drei.

2.  Es ist fünf Minuten n.....



1999/2000 ✨ Martina Müller

# WIE SPÄT IST ES?

Schreib auf, wie spät es auf den 10 rosa Uhren ist!

Lies die Sätze genau, sie helfen dir bei dieser Aufgabe! ➡



Es ist viertel zwölf.



Es ist viertel vier.



Es ist fünf Minuten vor drei viertel sechs.




Es ist drei viertel sechs.



Es ist fünf Minuten nach drei viertel sechs.



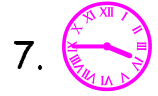
1.



6.



2.



7.



3.



8.



4.



9.



5.



10.

So: 1.  Es ist viertel zwei.

2.  Es ist fünf Minuten n...



1999/2000 ✨ Martina Müller

# WIE SPÄT IST ES?

Schreib auf, wie spät es auf den 10 rosa Uhren ist!

Lies die Sätze genau, sie helfen dir bei dieser Aufgabe! ➡



Es ist drei viertel vier.



Es ist drei viertel drei.



Es ist fünf Minuten nach drei viertel drei.



Es ist viertel elf.



Es ist fünf Minuten vor viertel elf.



1.



6.



2.



7.



3.



8.



4.



9.



5.



10.

So: 1.  Es ist drei viertel sieben.

2.  Es ist fünf Minuten v.....



1999/2000 ✨ Martina Müller