

# WIE SPÄT IST ES?

Schreib auf, wie spät es auf den 10 orangen Uhren ist!

Lies die Sätze genau, sie helfen dir bei dieser Aufgabe! ➡



Es ist fünf Minuten vor sieben Uhr.



Es ist fünf Minuten nach zwei Uhr.



Es ist fünf Minuten vor drei viertel drei.



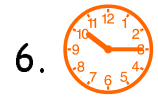
Es ist viertel drei.



Es ist fünf Uhr.



1.



6.




2.



7.



3.



8.




4.



9.



5.



10.

So: 1. Es ist drei viertel sieben.

2. Es ist fünf M.....



1999/2000 ✨ Martina Müller

# WIE SPÄT IST ES?

Schreib auf, wie spät es auf den 10 orangen Uhren ist!

Lies die Sätze genau, sie helfen dir bei dieser Aufgabe! ➡



Es ist zwei Uhr.



Es ist viertel sechs.



Es ist fünf Minuten vor halb drei.



Es ist fünf Minuten vor drei viertel sieben.



Es ist halb sechs.



1.



6.



2.



7.



3.



8.



4.



9.



5.



10.

So: 1. Es ist fünf Minuten vor halb sechs.

2. Es ist d.....



1999/2000 ✨ Martina Müller

# WIE SPÄT IST ES?

Schreib auf, wie spät es auf den 10 orangen Uhren ist!

Lies die Sätze genau, sie helfen dir bei dieser Aufgabe! ➡



Es ist fünf Minuten vor sieben Uhr.



1.



6.



Es ist fünf Minuten nach zwei Uhr.



2.



7.



Es ist fünf Minuten vor drei viertel drei.



3.



8.



Es ist viertel drei.



4.



9.



Es ist fünf Uhr.



5.



10.

So: 1.  Es ist drei viertel sieben.

2.  Es ist fünf M.....



1999/2000 ✨ Martina Müller

# WIE SPÄT IST ES?

Schreib auf, wie spät es auf den 10 orangen Uhren ist!

Lies die Sätze genau, sie helfen dir bei dieser Aufgabe! ➡



Es ist zwei Uhr.



1.



6.



Es ist viertel sechs.



2.



7.



Es ist fünf Minuten vor halb drei.



3.



8.



Es ist fünf Minuten vor drei viertel sieben.



4.



9.



Es ist halb sechs.



5.



10.


So: 1.  Es ist fünf Minuten vor halb sechs.

2.  Es ist d.....



1999/2000 ✨ Martina Müller

# WIE SPÄT IST ES?



Schreib auf, wie spät es auf den 10 orangen Uhren ist!

Lies die Sätze genau, sie helfen dir bei dieser Aufgabe! ➡



Es ist fünf Minuten vor sieben Uhr.



1.



6.



Es ist fünf Minuten nach zwei Uhr.



2.



7.



Es ist fünf Minuten vor drei viertel drei.



3.



8.



Es ist viertel drei.



4.



9.



Es ist fünf Uhr.



5.



10.


So: 1.  Es ist drei viertel sieben.

2.  Es ist fünf M.....



1999/2000 \* Martina Müller

# WIE SPÄT IST ES?



Schreib auf, wie spät es auf den 10 orangen Uhren ist!

Lies die Sätze genau, sie helfen dir bei dieser Aufgabe! ➡



Es ist zwei Uhr.



1.



6.



Es ist viertel sechs.



2.



7.



Es ist fünf Minuten vor halb drei.



3.



8.



Es ist fünf Minuten vor drei viertel sieben.



4.



9.



Es ist halb sechs.



5.



10.

So: 1.  Es ist fünf Minuten vor halb sechs.

2.  Es ist d.....



1999/2000 \* Martina Müller

# WIE SPÄT IST ES?

Schreib auf, wie spät es auf den 10 orangen Uhren ist!

Lies die Sätze genau, sie helfen dir bei dieser Aufgabe! ➡



Es ist fünf Minuten vor halb eins.



Es ist viertel zwei.



Es ist zehn Minuten nach vier Uhr.



Es ist fünf Minuten nach halb fünf.



Es ist drei viertel vier.




1.




6.



2.



7.



3.



8.



4.



9.



5.



10.

So: 1.  Es ist viertel fünf.

2.  Es ist fünf M.....



1999/2000 ✨ Martina Müller

# WIE SPÄT IST ES?

Schreib auf, wie spät es auf den 10 orangen Uhren ist!

Lies die Sätze genau, sie helfen dir bei dieser Aufgabe! ➡



Es ist zehn Minuten vor vier Uhr.



Es ist zehn Minuten nach drei Uhr.



Es ist zehn Minuten vor fünf Uhr.



Es ist fünf Minuten nach viertel fünf.



Es ist fünf Minuten vor ein Uhr.



1.



6.



2.



7.



3.



8.



4.



9.



5.



10.

So: 1.  Es ist zehn Minuten nach zwei Uhr.

2.  Es ist .....



1999/2000 ✨ Martina Müller

# WIE SPÄT IST ES?

Schreib auf, wie spät es auf den 10 orangen Uhren ist!

Lies die Sätze genau, sie helfen dir bei dieser Aufgabe! ➡



Es ist fünf Minuten vor halb eins.



Es ist viertel zwei.



Es ist zehn Minuten nach vier Uhr.



Es ist fünf Minuten nach halb fünf.



Es ist drei viertel vier.



1.



6.



2.



7.



3.



8.



4.



9.



5.



10.

So: 1.  Es ist viertel fünf.

2.  Es ist fünf M.....



1999/2000 ✨ Martina Müller

# WIE SPÄT IST ES?

Schreib auf, wie spät es auf den 10 orangen Uhren ist!

Lies die Sätze genau, sie helfen dir bei dieser Aufgabe! ➡



Es ist zehn Minuten vor vier Uhr.



Es ist zehn Minuten nach drei Uhr.



Es ist zehn Minuten vor fünf Uhr.



Es ist fünf Minuten nach viertel fünf.



Es ist fünf Minuten vor ein Uhr.



1.



6.



2.



7.



3.



8.



4.



9.



5.



10.

So: 1.  Es ist zehn Minuten nach zwei Uhr.

2.  Es ist .....



1999/2000 ✨ Martina Müller

# WIE SPÄT IST ES?




Schreib auf, wie spät es auf den 10 orangen Uhren ist!

Lies die Sätze genau, sie helfen dir bei dieser Aufgabe! ➡

 Es ist fünf Minuten vor halb eins.



 Es ist viertel zwei.



 Es ist zehn Minuten nach vier Uhr.



 Es ist fünf Minuten nach halb fünf.



 Es ist drei viertel vier.




So: 1.  Es ist viertel fünf.

2.  Es ist fünf M.....



1999/2000 \* Martina Müller

# WIE SPÄT IST ES?



Schreib auf, wie spät es auf den 10 orangen Uhren ist!

Lies die Sätze genau, sie helfen dir bei dieser Aufgabe! ➡

 Es ist zehn Minuten vor vier Uhr.



 Es ist zehn Minuten nach drei Uhr.



 Es ist zehn Minuten vor fünf Uhr.



 Es ist fünf Minuten nach viertel fünf.



 Es ist fünf Minuten vor ein Uhr.



So: 1.  Es ist zehn Minuten nach zwei Uhr.

2.  Es ist .....



1999/2000 \* Martina Müller