

# WIE SPÄT IST ES?

Schreib auf, wie spät es auf den 10 blauen Uhren ist!

Lies die Sätze genau, sie helfen dir bei dieser Aufgabe! ➡



Es ist zwei Uhr.



Es ist zehn Minuten vor zwei Uhr.



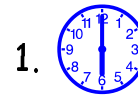
Es ist zehn Minuten nach zwei Uhr.



Es ist vier Uhr.

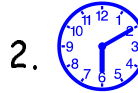


Es ist zehn Minuten nach vier Uhr.



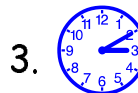
1.

6.




2.

7.



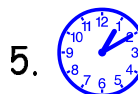
3.

8.




4.

9.



5.

10.

So: 1.  Es ist sechs Uhr.

2.  Es ist zehn M.....



1999/2000 ✨ Martina Müller

# WIE SPÄT IST ES?

Schreib auf, wie spät es auf den 10 blauen Uhren ist!

Lies die Sätze genau, sie helfen dir bei dieser Aufgabe! ➡



Es ist drei Uhr.



Es ist zehn Minuten vor drei Uhr.




Es ist zehn Minuten nach drei Uhr.



Es ist sechs Uhr.




Es ist zehn Minuten vor sieben Uhr.




1.

6.




2.

7.




3.

8.



4.

9.



5.

10.

So: 1.  Es ist vier Uhr.

2.  Es ist zehn M.....



1999/2000 ✨ Martina Müller

# WIE SPÄT IST ES?

Schreib auf, wie spät es auf den 10 blauen Uhren ist!

Lies die Sätze genau, sie helfen dir bei dieser Aufgabe! ➡



Es ist zwei Uhr.



Es ist zehn Minuten vor zwei Uhr.



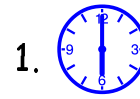
Es ist zehn Minuten nach zwei Uhr.



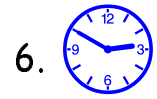
Es ist vier Uhr.



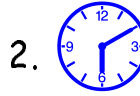
Es ist zehn Minuten nach vier Uhr.



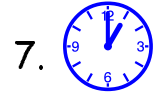
1.



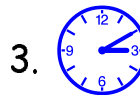
6.



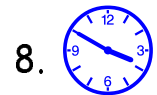
2.



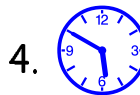
7.



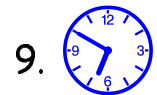
3.



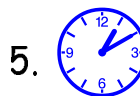
8.



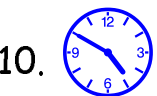
4.



9.



5.



10.

So: 1.  Es ist sechs Uhr.

2.  Es ist zehn M.....



1999/2000 ✨ Martina Müller

# WIE SPÄT IST ES?

Schreib auf, wie spät es auf den 10 blauen Uhren ist!

Lies die Sätze genau, sie helfen dir bei dieser Aufgabe! ➡



Es ist drei Uhr.



Es ist zehn Minuten vor drei Uhr.



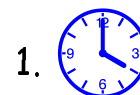
Es ist zehn Minuten nach drei Uhr.



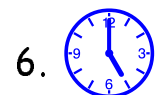
Es ist sechs Uhr.



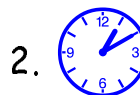
Es ist zehn Minuten vor sieben Uhr.



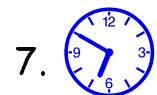
1.



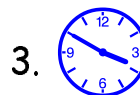
6.



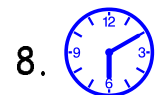
2.




7.




3.



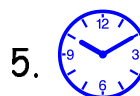
8.



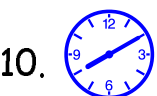
4.



9.



5.



10.


So: 1.  Es ist vier Uhr.

2.  Es ist zehn M.....



1999/2000 ✨ Martina Müller

# WIE SPÄT IST ES?



Schreib auf, wie spät es auf den 10 blauen Uhren ist!

Lies die Sätze genau, sie helfen dir bei dieser Aufgabe! ➡



Es ist zwei Uhr.



Es ist zehn Minuten vor zwei Uhr.



Es ist zehn Minuten nach zwei Uhr.



Es ist vier Uhr.



Es ist zehn Minuten nach vier Uhr.



1.



2.



3.



4.




5.



6.



7.




8.



9.



10.


So: 1.  Es ist sechs Uhr.

2.  Es ist zehn M.....



1999/2000 ✨ Martina Müller

# WIE SPÄT IST ES?



Schreib auf, wie spät es auf den 10 blauen Uhren ist!

Lies die Sätze genau, sie helfen dir bei dieser Aufgabe! ➡



Es ist drei Uhr.



Es ist zehn Minuten vor drei Uhr.



Es ist zehn Minuten nach drei Uhr.



Es ist sechs Uhr.



Es ist zehn Minuten vor sieben Uhr.



1.



2.



3.



4.



5.



6.



7.



8.



9.



10.

So: 1.  Es ist vier Uhr.

2.  Es ist zehn M.....



1999/2000 ✨ Martina Müller