






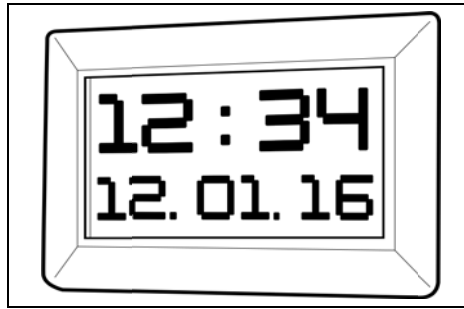
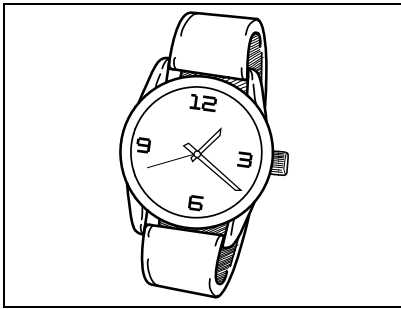


# Verschiedene Uhren



Schreibe die Wörter unter das richtige Bild:

der Wecker	die Wanduhr	die Pendeluhr
die Sanduhr	die Digitaluhr	die Armbanduhr
die Turmuhr	die Standuhr	die Taschenuhr

Schreibe auf den Strich – schau dir die Tabelle auf der letzten Seite gut an:

## Der Tag hat 24 Stunden

Um 0 Uhr ist es Nacht. Ich habe \_\_\_\_\_ .

Um 1 Uhr \_\_\_\_\_ . \_\_\_\_\_ .

Um 2 Uhr \_\_\_\_\_ . \_\_\_\_\_ .

Um 3 Uhr \_\_\_\_\_ . \_\_\_\_\_ .

Um 4 Uhr \_\_\_\_\_ . \_\_\_\_\_ .

Um 5 Uhr \_\_\_\_\_ . \_\_\_\_\_ .

Um 6 Uhr \_\_\_\_\_ . \_\_\_\_\_ .

Um 7 Uhr \_\_\_\_\_ . \_\_\_\_\_ .

Um 8 Uhr \_\_\_\_\_ . \_\_\_\_\_ .

Um 9 Uhr \_\_\_\_\_ . \_\_\_\_\_ .

Um 10 Uhr \_\_\_\_\_ . \_\_\_\_\_ .

Um 11 Uhr \_\_\_\_\_ . \_\_\_\_\_ .

Jetzt ist es 12 Uhr. Es ist \_\_\_\_\_ .

Um 13 Uhr \_\_\_\_\_ .

Ich werde \_\_\_\_\_ .

Um 14 Uhr \_\_\_\_\_ .

\_\_\_\_\_ .

Um 15 Uhr \_\_\_\_\_ .

\_\_\_\_\_ .

Um 16 Uhr \_\_\_\_\_ .

\_\_\_\_\_ .

Um 17 Uhr \_\_\_\_\_ .

\_\_\_\_\_ .

Um 18 Uhr \_\_\_\_\_ . \_\_\_\_\_ .

Um 19 Uhr \_\_\_\_\_ . \_\_\_\_\_ .

Um 20 Uhr \_\_\_\_\_ . \_\_\_\_\_ .

Um 21 Uhr \_\_\_\_\_ . \_\_\_\_\_ .

Um 22 Uhr \_\_\_\_\_ . \_\_\_\_\_ .

Um 23 Uhr \_\_\_\_\_ . \_\_\_\_\_ .

Um 24 Uhr \_\_\_\_\_ . \_\_\_\_\_ .

0 Uhr	habe ich geschlafen	Nacht
1 Uhr		
2 Uhr		
3 Uhr		
4 Uhr		
5 Uhr		
6 Uhr		
7 Uhr	bin ich aufgestanden	Morgen
8 Uhr	bin ich in die Schule gegangen	
9 Uhr	habe ich gerechnet	Vormittag
10 Uhr	habe ich gelesen	
11 Uhr	habe ich geschrieben	
12 Uhr	Jetzt ist es 12 Uhr.	Mittag
13 Uhr	werde ich nach Hause gehen	Nachmittag
14 Uhr	werde ich essen	
15 Uhr	werde ich die Aufgabe machen	
16 Uhr	werde ich spielen	
17 Uhr	werde ich lesen	
18 Uhr	werde ich essen	Abend
19 Uhr	werde ich fernsehen	
20 Uhr	werde ich mich waschen	
21 Uhr	werde ich schlafen	Nacht
22 Uhr	werde ich schlafen	
23 Uhr	werde ich schlafen	
24 Uhr	= 0 Uhr	