



Vorgänger und Nachfolger

 Schreibe die Zahlen in die Schneeflocken.



	7	
--	---	--

		3
--	--	---

2		
---	--	--

	7	
--	---	--

5		
---	--	--

	1	
--	---	--

		4
--	--	---

	8	
--	---	--

	2	
--	---	--

	3	
--	---	--

8		
---	--	--

6		
---	--	--

	9	
--	---	--

		5
--	--	---

		7
--	--	---

	1	
--	---	--



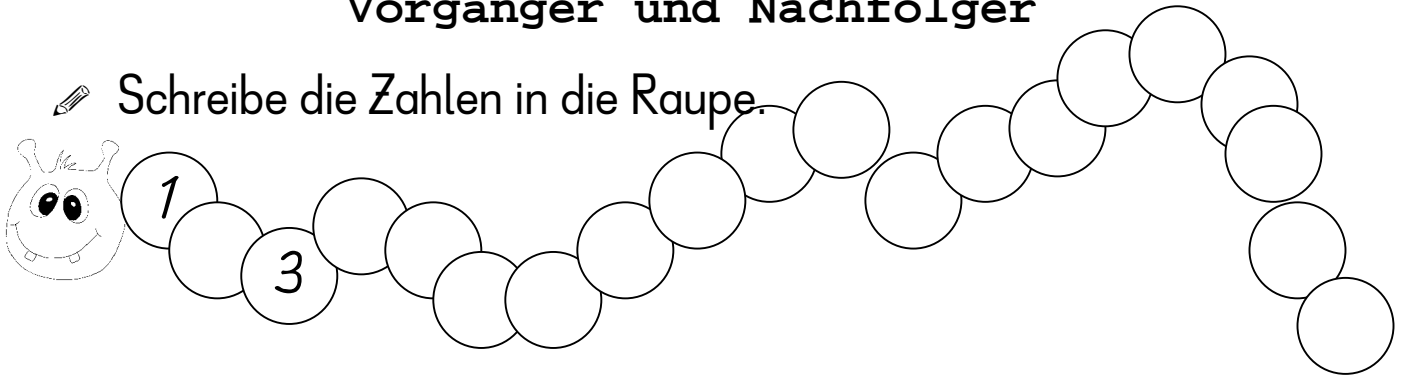
Vorgänger		Nachfolger
	5	
7		
		2

Vorgänger		Nachfolger
	1	
8		
		11

Vorgänger		Nachfolger
	2	
1		
		10

Vorgänger und Nachfolger

 Schreibe die Zahlen in die Raupe.



	12	
--	----	--

		17
--	--	----

11		
----	--	--

	15	
--	----	--

9		
---	--	--

	18	
--	----	--

	16	
--	----	--

	19	
--	----	--

Vorgänger		Nachfolger
	13	
18		
		15

Vorgänger		Nachfolger
	10	
8		
		20

Vorgänger		Nachfolger
	17	
6		
		19

Vorgänger		Nachfolger
	11	
14		
		12

	13			
--	----	--	--	--

			18	
--	--	--	----	--

10				
----	--	--	--	--

		9		
--	--	---	--	--

			12	
--	--	--	----	--

	17			
--	----	--	--	--

	1			
--	---	--	--	--

				16
--	--	--	--	----